



CONTROLADOR INTERNO

| | | | |
|--------------------|--|------------------|--|
| Nome do Candidato: | | Nº de Inscrição: | |
| Assinatura: | | | |

LEIA COM ATENÇÃO AS INSTRUÇÕES ABAIXO:

- 1. É proibido folhear o caderno de provas antes da autorização do fiscal.**
- Confira se este caderno de provas corresponde ao cargo (cabecinho desta página) para o qual você se candidatou.
- Confira os dados impressos no cartão resposta. Quaisquer problemas deverão ser comunicados ao fiscal de sala, para registro em ata.
- 4. Assine o cartão de respostas.**
- Verifique se este caderno de prova contém **40 questões**. Não serão consideradas reclamações posteriores ao término da prova.
- Cada questão da prova objetiva constitui-se de cinco alternativas, identificadas pelas letras A, B, C, D e E, das quais apenas uma será a resposta correta.
- Preencha primeiramente o rascunho do cartão de respostas da prova objetiva, que se encontra no final desta página; em seguida, passe-o a limpo, com caneta esferográfica azul ou preta. Qualquer outra cor de tinta no cartão de respostas não será aceita pela leitora ótica.
- Preencha o cartão de respostas da prova objetiva completando totalmente a opção, ao lado dos números, que corresponde à resposta correta.
- Serão consideradas incorretas questões para as quais o candidato tenha preenchido mais de uma opção no cartão de respostas, bem como questões cuja opção apresente rasuras no cartão de respostas.
- O cartão resposta não será substituído em hipótese alguma; portanto, evite rasuras.
- Em sala, a comunicação entre os candidatos não será permitida, sob qualquer forma ou alegação.
- Não será permitido o uso de calculadoras, dicionários, telefones celulares, pen drive ou de qualquer outro recurso didático, elétrico ou eletrônico, nem o uso de qualquer acessório que cubra as orelhas do candidato.
- 13. A prova objetiva terá duração máxima de 3 (três) horas e 30 (trinta) minutos**, incluído o tempo para preenchimento do cartão de respostas.
- O candidato somente poderá retirar-se do local de prova após 1 (uma) hora de seu início e poderá levar o caderno de provas após 2 (duas) horas e 30 (trinta) minutos de seu início.
- Os (3) três últimos candidatos somente poderão retirar-se da sala de prova simultaneamente e devem fazê-lo após a assinatura da ata de sala.
- As saídas para: banheiro, tomar medicamento e água, só serão permitidas acompanhadas por um fiscal.
- Os fiscais **NÃO** estão autorizados a prestar informações de interpretação das questões. Sua função é apenas fiscalizar e orientar quanto ao funcionamento do certame.
- Ao concluir a prova, entregue ao fiscal de sala o cartão de respostas.

Boa prova!

| | | | | | | | | | | | | | | | | | | | |
|----|--|----|--|----|--|----|--|----|--|----|--|----|--|----|--|----|--|----|--|
| 01 | | 02 | | 03 | | 04 | | 05 | | 06 | | 07 | | 08 | | 09 | | 10 | |
| 11 | | 12 | | 13 | | 14 | | 15 | | 16 | | 17 | | 18 | | 19 | | 20 | |
| 21 | | 22 | | 23 | | 24 | | 25 | | 26 | | 27 | | 28 | | 29 | | 30 | |
| 31 | | 32 | | 33 | | 34 | | 35 | | 36 | | 37 | | 38 | | 39 | | 40 | |



RASCUNHO



LÍNGUA PORTUGUESA

As questões de 1 a 10 dizem respeito ao TEXTO. Leia-o atentamente antes de respondê-las.

(Texto)

O mapa em 3D que mostra com precisão os pontos altos e baixos da superfície da Terra

1 A DLR, agência espacial alemã, acaba de divulgar um mapa em 3D que mostra a superfície da Terra de forma inédita. A representação gráfica foi elaborada a partir de imagens captadas por dois
5 satélites de monitoramento, que traçaram as variações topográficas ao longo de mais de 148 milhões de km². A agência disponibilizou o mapa gratuitamente para qualquer cientista que queira utilizá-lo. Suas aplicações é diversas: da previsão
10 do curso da água durante enchentes ao planejamento de grandes projetos de infraestrutura.
(Fonte adaptada: <https://g1.globo.com>> acesso em 16 de outubro de 2018)

01. De acordo com as normas de concordância verbal, assinale a alternativa que apresenta uma oração retirada do Texto cuja concordância esteja incorreta:

- a) “A DLR, [...], acaba de divulgar...” (linha 1)
- b) “[...] um mapa em 3D que mostra a superfície da Terra...” (linha 2)
- c) “A representação gráfica foi elaborada...” (linhas 3 e 4)
- d) “A agência disponibilizou...” (linha 7)
- e) “Suas aplicações é diversas: [...]” (linha 9)

02. Com base no Texto e seu contexto, analise:

I- O mapa em 3D mostra a superfície da Terra de forma inédita;

II- O mapa em 3D foi disponibilizado com um custo de cinquenta reais para qualquer cientista que queira utilizá-lo;

III- O mapa em 3D poderá ser utilizado na previsão do curso da água durante enchentes ao planejamento de grandes projetos de infraestrutura.

Dos itens acima:

- a) Apenas o item I está correto.
- b) Apenas o item III está correto.
- c) Apenas os itens I e III estão corretos.
- d) Apenas os itens II e III estão corretos.
- e) Todos os itens estão corretos.

03. “A DLR, agência espacial alemã, acaba de divulgar um mapa em 3D que mostra a superfície da Terra de forma inédita.” (linhas 1 a 3). Com base no período retirado do Texto, é correto afirmar que a partícula “que” destacada exerce função morfológica de:

- a) Conjunção integrante.
- b) Conjunção concessiva.
- c) Conjunção condicional.
- d) Pronome relativo.
- e) Pronome possessivo.

04. De acordo com as regras de pontuação, as vírgulas que isolam a expressão “agência espacial alemã” (linha 1) no Texto são de uso:

- a) Obrigatório, para isolar um elemento de valor meramente explicativo.
- b) Facultativo, para isolar um adjunto adverbial deslocado.
- c) Obrigatória, podendo ser substituídas por aspas, mantendo-se o sentido.
- d) Facultativo, para isolar um vocativo.
- e) Obrigatório, para isolar uma oração coordenada sindética aditiva.

05. As partículas “a” (linha 2) e “A” (linha 3) retiradas do Texto são classificadas morfológicamente, respectivamente, como:

- a) Artigo definido – Preposição.
- b) Preposição – Artigo definido.
- c) Artigo definido – Artigo definido.
- d) Preposição – Preposição.
- e) Pronome oblíquo – Pronome demonstrativo.



06. “Chama-se voz o aspecto verbal caracterizado pelo papel que exerce o sujeito em relação à ação expressa.” (Rodrigo Bezerra). Com base na citação, é correto afirmar que o período a seguir retirado do Texto configura:

“A representação gráfica foi elaborada a partir de imagens...” (linhas 3 e 4)

- a) Voz ativa.
- b) Voz passiva analítica.
- c) Voz passiva sintética.
- d) Voz passiva pronominal.
- e) Voz reflexiva.

07. “A agência disponibilizou o mapa gratuitamente...” (linhas 7 e 8). É correto afirmar que o sujeito da oração é:

- a) Sujeito simples.
- b) Sujeito composto.
- c) Sujeito elíptico.
- d) Sujeito indeterminado.
- e) Sujeito inexistente.

08. As expressões “disponibilizou” (linha 7) e “para” (linha 8) retiradas do Texto desempenham, respectivamente, as seguintes funções sintáticas:

- a) Verbo transitivo direto e indireto; sem função sintática.
- b) Verbo intransitivo; preposição.
- c) Adjunto adverbial e preposição.
- d) Verbo transitivo direto; adjunto adverbial.
- e) Verbo; adjunto adverbial.

09. Na frase adaptada do Texto “Espera-se que o mapa em 3D possa contribuir para os grandes projetos de engenharia.”. Assinale a alternativa em que o termo destacado do Texto exerce a mesma função sintática que a partícula “que” sublinhada no trecho adaptado acima:

- a) “um mapa em 3D” (linha 2)
- b) “a partir de imagens” (linha 4)
- c) “148 milhões de km²” (linhas 6 e 7)
- d) “A agência” (linha 7)

e) A partícula em questão não exerce função sintática.

10. Assinale a palavra retirada do Texto acentuada pela seguinte regra gramatical:

Assinalam-se os vocábulos terminados em encontros vocálicos que costumam ser pronunciados como ditongos crescentes.

- a) “agência” (linha 1)
- b) “alemã” (linha 1)
- c) “utilizá-lo” (linha 9)
- d) “é” (linha 9)
- a) “previsão” (linha 9)

MATEMÁTICA

11. Considerando que um corredor realiza 12,5 km em 1 hora e meia, é correto afirmar que ele realizará 37500 metros em:

- a) 2 horas.
- b) 2 horas e meia.
- c) 3 horas.
- d) 4 horas.
- e) 4 horas e meia.


12. Qual será o tempo necessário para que um capital no valor de R\$ 87.500,00 aplicado à taxa de juros simples de 1,3% ao mês, renda um valor de R\$ 7.962,50?

- a) 3 meses.
- b) 4 meses.
- c) 5 meses.
- d) 7 meses.
- e) 9 meses.

13. Com base na “OFERTA” a seguir, é correto afirmar que o comprador que realizar o pagamento à vista pagará pela bateadeira um valor total de:

OFERTA!

A prazo: R\$ 129,50
À vista: 8% de desconto



- a) R\$ 114,15
- b) R\$ 119,14
- c) R\$ 119,89
- d) R\$ 125,12
- e) R\$ 125,18

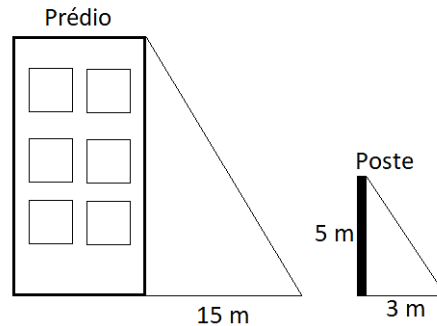
14. Assinale a alternativa que contém uma equação do primeiro grau que retrata, de forma correta, a situação a seguir: em uma feira, uma pessoa comprará maçãs por R\$ 0,42 centavos a unidade e, além disso, pagará uma taxa única de R\$ 1,20 pelo uso das sacolas plásticas.

- a) $y = 1,62x$
- b) $y = 0,42 + 1,20x$
- c) $y = 0,42x + 1,20$
- d) $y = 0,42 + 1,20$
- e) $y = 1,20 - 0,42$

15. Se um campo de futebol possui largura de 25 metros e comprimento de 62 metros, é correto afirmar que, após 15 voltas no campo, a distância total percorrida será igual a:

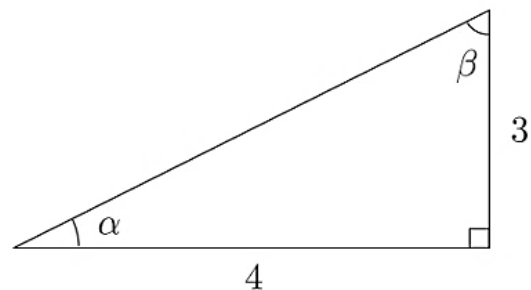
- a) 174 metros.
- b) 1550 metros.
- c) 2610 metros.
- d) 4980 metros.
- e) 23250 metros.

16. Analisando a figura a seguir, é possível observar que o Sol projeta uma sombra no prédio e no poste. Com base nisso e considerando a semelhança de triângulos, é correto afirmar que a altura do prédio, em metros, é igual a:



- a) 8 metros.
- b) 9 metros.
- c) 10 metros.
- d) 15 metros.
- e) 25 metros.

17. Assinale a alternativa que contenha corretamente o valor da hipotenusa do triângulo retângulo a seguir:



- a) $hip = 2$
- b) $hip = 4$
- c) $hip = 5$
- d) $hip = 7$
- e) $hip = 25$

18. Considerando o polinômio $(2x^3 - 3x^2 + 4x - 1) + (x^3 + 2x^2 - 5x + 3)$, é correto afirmar que somando e subtraindo os termos semelhantes, tem-se:

- a) $x^3 + 3x^2 - x$
- b) $2x^3 - x^2 - x + 2$
- c) $x^3 - x^2 + 2x - 2$
- d) $3x^3 + x^2 - x + 2$
- e) $3x^3 - x^2 - x + 2$



19. Fatorando a expressão $25x^2 - 36$ com base na fatoração da diferença de dois quadrados, tem-se:

- a) $(5x + 6)(5x - 6)$
- b) $(5x + 6)(-5x + 6)$
- c) $((5x + 6)(5x + 6))^2$
- d) $(5x - 6)(5x - 6)$
- e) $(x + 6)(x - 6)$

20. Após cada prova terminada, um carro de corrida gasta 90% de combustível. Sabe-se que o tanque do carro possui capacidade para 15 litros e que está totalmente cheio. Com base nisso, é correto afirmar que, após o término da prova, a quantidade total de combustível que não foi gasta pelo carro foi de, exatamente:

- a) 1,5 litros.
- b) 10,5 litros.
- c) 12 litros.
- d) 13,5 litros.
- e) 14,5 litros.

CONHECIMENTOS GERAIS

21. Um fato importante que marcou a história do município de Marilândia-ES, e que proporcionou um súbito desenvolvimento da cidade, foi:

- a) A visita do Governador Jair da Silva Neves, para a inauguração do 1º serviço de luz de Marilândia.
- b) A inauguração do Pré-Seminário Diocesano “Imaculado Coração de Maria”, destinado a recrutar vocação sacerdotal.
- c) A vitória do filho da terra, Gérson Camata para Governo do Estado em 1983.
- d) A inauguração do 1º Grupo Escolar “Professor Jair Neves”, onde funciona hoje a Escola de 1º Grau Escolar “Izabel Netto”.
- e) A primeira missa pelo padre Sandro Antônio Marssigalia, iniciando-se as atividades sociais e econômicas.

22. *Mais de 60 chefes de Estado e de Governo, incluindo Donald Trump, Vladimir Putin e Angela Merkel, irão em 11 de novembro a Paris para as comemorações do centenário do fim da Primeira Guerra Mundial.*

(fonte adaptada: g1.com>acesso 19 de setembro de 2018)

Em relação a Primeira Guerra Mundial, analise

- I - Foi um conflito em escala global;*
- II - Durou de 1914 a 1918;*
- III - Foi o resultado dos atritos permanentes provocados pelo imperialismo das grandes potências europeias.*

Dos itens acima:

- a) Apenas o item I está correto.
- b) Apenas os itens I e II estão corretos.
- c) Apenas os itens II e III estão corretos.
- d) Apenas os itens I e III estão corretos.
- e) Todos os itens estão corretos.

23. De acordo com a Lei Orgânica do Município de Marilândia – ES, analise o trecho e assinale a alternativa que completa corretamente a lacuna:

É _____ ao servidor público, sob pena de demissão, participar na qualidade de proprietário, sócio ou administrador, de empresa fornecedora de bens e serviços, executora de obras ou que realize qualquer modalidade de contrato, de ajuste ou compromisso com o Estado.

- a) Obrigatório.
- b) Permitido
- c) Vedado
- d) Auxiliado
- e) Valido.

24. Os gentílicos, também chamados, quando adjetivos, adjetivos pátrios, são uma classe de palavras que designam um indivíduo de acordo com o seu local de nascimento. Segundo o IBGE, quem nasce no município de Marilândia-ES é:



- a) Marilandindo.
- b) Marilando.
- c) Marilez.
- d) Marilandense.
- e) Marilandino.

25. Com base na notícia abaixo e utilizando seus conhecimentos sobre o assunto, analise o trecho e assinale a alternativa que completa corretamente a lacuna:

O presidente da Coreia do Sul, Moon Jae-in, encontrou na quinta-feira (18/10/2018) o Papa Francisco no _____ e o convidou, em nome do líder norte-coreano, Kim Jong-un, para visitar a Coreia do Norte.

(fonte adaptada: g1.com>acesso 19 de setembro de 2018)

- a) Monte Carlo.
- b) Vaticano.
- c) Montenegro.
- d) Belgrado.
- e) Reino Unido.

26. Antes de ser elevado para categoria de município, Marilândia pertencia a:

- a) Montanha.
- b) Itapemirim.
- c) Guarapari.
- d) Pinheiros.
- e) Colatina.

27. De acordo com a História do Município de Marilândia – ES, analise o trecho e assinale a alternativa que completa respectivamente as lacunas:

Até o início do século passado, toda região do atual município de Marilândia não passava de florestas virgens. Ocorreu no Brasil em meados do século XIX um grande fluxo migratório de várias origens, principalmente a _____, incentivada pelo Governo Imperial, para solucionar o problema gerado pela falta de mão de obra na população cafeeira. Esses colonizadores abriram as primeiras clareiras, construíram as primeiras moradias e iniciaram o plantio de _____.

- a) Japonesa / trigo.
- b) Inglesa / açúcar.
- c) Italiana / café.
- d) Asiática / trigo.
- e) Alemã / milho.

28. *Países do MERCOSUL vão atuar juntos no combate ao crime. Os senadores aprovaram o Projeto de Decreto Legislativo 104/2018 que confirma o texto do acordo de cooperação entre os países membros e associados do MERCOSUL, para a criação de equipes conjuntas de investigação.*

(fonte adaptada: <https://www12.senado.leg.br>>acesso 18 de setembro de 2018)

São países *Membros efetivos* do MERCOSUL, exceto:

- a) Uruguai.
- b) Brasil.
- c) Paraguai.
- d) México.
- e) Argentina.

29. *Com treze candidatos, a corrida pelo Palácio de Planalto nas eleições de 2018 é a mais concorrida e pulverizada desde 1989, a primeira da redemocratização, quando foram 22 os presidencialistas.*

(fonte adaptada: <https://veja.abril.com.br>>acesso 18 de setembro de 2018)

Foram candidatos à Presidência da República, exceto:

- a) Álvaro Dias.
- b) Henrique Meirelles.
- c) Guilherme Boulos.
- d) Vera Lucia.
- e) Cabo Daniel.

30. O município de Marilândia possui trinta e dois povoados, não é um deles:

- a) Queixada.
- b) Limoeiro.
- c) Sumidouro



- d) São Miguel.
- e) Boa Vista.

CONHECIMENTOS ESPECÍFICOS

31. Os Poderes Legislativo, Executivo e Judiciário devem manter, de forma integrada, sistema de controle interno, dotado de finalidades específicas previstas na Constituição Federal. Assinale a alternativa que não contém uma das finalidades previstas na Constituição Federal para o sistema de controle interno.

- a) Apoiar o controle externo no exercício de sua missão institucional.
- b) Exercer o controle das operações de crédito, avais e garantias, bem como dos direitos e haveres da União.
- c) Exercer a função jurisdicional estatal para punir as ilegalidades cometidas no âmbito da Administração Pública
- d) Avaliar o cumprimento das metas previstas no plano plurianual, a execução dos programas de governo e dos orçamentos da União.
- e) Comprovar a legalidade e avaliar os resultados, quanto à eficácia e eficiência, da gestão orçamentária, financeira e patrimonial nos órgãos e entidades da administração federal, bem como da aplicação de recursos públicos por entidades de direito privado.

32. Carlos, servidor público responsável pelo controle interno de determinado órgão público, tomou conhecimento de ilegalidade cometida no âmbito da Administração Pública. Qual conduta Carlos deverá tomar?

- a) Carlos terá liberdade de escolha para decidir qual conduta tomar, inexistindo qualquer mandamento legal ou constitucional sobre a conduta adequada.

- b) Carlos poderá dar ciência ao Tribunal de Contas da União, mas não há qualquer sanção caso não o faça.
- c) Carlos não deverá tomar nenhuma iniciativa, pois a sua função é apenas auditar e não comunicar irregularidades.
- d) Carlos deverá dar ciência ao Tribunal de Contas de União, sob pena de advertência verbal pelo superior.
- e) Carlos deverá dar ciência ao Tribunal de Contas da União, sob pena de responsabilidade solidária.

33. De acordo com as regras constitucionais sobre o controle interno, assinale a alternativa correta.

- a) Compete exclusivamente ao Ministério Público da União a representação ao Tribunal de Contas da União acerca de irregularidades ou ilegalidades cometidas no âmbito da Administração Pública.
- b) Qualquer cidadão, partido político, associação ou sindicato é parte legítima para, na forma da lei, denunciar irregularidades ou ilegalidades perante o Tribunal de Contas da União.
- c) Somente o servidor público responsável pelo controle interno é parte legítima para denunciar irregularidades ou ilegalidades perante o Tribunal de Contas da União.
- d) A denúncia de irregularidades ou ilegalidades perante o Tribunal de Contas da União é de competência exclusiva dos sindicatos.
- e) Qualquer partido político, associação ou sindicato é parte legítima para, na forma da lei, denunciar irregularidades ou ilegalidades perante o Tribunal de Contas da União, mas os cidadãos não terão a possibilidade de realizar denúncias.

34. De acordo com a Constituição Federal, a fiscalização contábil, financeira, orçamentária, operacional e patrimonial da União e das entidades da administração direta e indireta, quanto à legalidade, legitimidade, economicidade, aplicação das subvenções e renúncia de receitas, será exercida:



- a) Pelo Ministério Público Federal, responsável por instaurar inquéritos e investigar eventuais fraudes contábeis e financeiras.
- b) Pelo Poder Judiciário, que tem o poder jurisdicional estatal para fiscalizar e julgar irregularidades.
- c) Pelo Congresso Nacional, com auxílio do Tribunal de Contas da União, mediante controle externo, e pelo sistema de controle interno de cada Poder.
- d) Pelo próprio Poder Executivo, mediante autotutela, um dos princípios da Administração Pública.
- e) Pela polícia judiciária, a única instituição pública titular do Poder de Polícia.

35. Sobre a organização administrativa, assinale a alternativa incorreta.

- a) A Administração Pública é una, não havendo qualquer divisão de competências para outra entidade administrativa, de modo que o exercício da Administração Pública é feito somente por meio da criação de órgãos hierárquicos pela União, Estados, Distrito Federal e Municípios.
- b) Administração Indireta, também denominada de Administração Descentralizada, pode ser definida como o conjunto de pessoas jurídicas, de direito público ou privado, criadas por lei, para desempenhar atividades assumidas pelo Estado, seja como serviço público, seja a título de intervenção no domínio econômico.
- c) A Administração Direta, também denominada de Administração Centralizada, é composta pelas pessoas jurídicas políticas (União, Estados, Distrito Federal e Municípios).
- d) A desconcentração é a distribuição interna de competências, dentro da mesma pessoa jurídica, como no caso da criação de órgãos que compõe a hierarquia administrativa da Administração Pública.

- e) A descentralização é a distribuição de competências de uma para outra pessoa, física ou jurídica, como ocorre no caso da distribuição de competências da Administração Direta para as entidades da Administração Indireta.

36. Sobre as regras constitucionais em relação aos orçamentos, analise:

I - Os projetos de lei relativos ao plano plurianual, às diretrizes orçamentárias, ao orçamento anual e aos créditos adicionais serão apreciados somente pela Câmara dos Deputados, dispensando-se a apreciação pelo Senado Federal;

II - A lei que instituir o plano plurianual estabelecerá, de forma regionalizada, as diretrizes, objetivos e metas da administração pública federal para as despesas de capital e outras delas decorrentes e para as relativas aos programas de duração continuada;

III - O Poder Executivo publicará, até trinta dias após o encerramento de cada bimestre, relatório resumido da execução orçamentária.

Dos itens acima:

- a) Apenas o item III está correto.
- b) Apenas os itens I e III estão corretos.
- c) Apenas os itens II e III estão corretos.
- d) Apenas os itens I e II estão corretos.
- e) Todos os itens estão corretos.

37. Assinale a alternativa correta em relação aos princípios do processo administrativo.

- a) O princípio da atipicidade é decorrente da bilateralidade do processo: quando uma das partes alega alguma coisa, há de ser ouvida também a outra, dando-se-lhe oportunidade de resposta. Ele supõe o conhecimento dos atos processuais pelo acusado e o seu direito de resposta ou de reação.
- b) O princípio da oficialidade consiste no fato de que, por ser pública a atividade da Administração, os processos que ela desenvolve devem estar abertos ao acesso dos interessados.



- c) O princípio da publicidade assegura a possibilidade de instauração do processo por iniciativa da Administração, independentemente de provocação do administrado e ainda a possibilidade de impulsionar o processo, adotando todas as medidas necessárias à sua adequada instrução.
- d) O princípio da gratuidade do processo administrativo, consiste na ausência de cobrança de despesas processuais, ressalvadas as previstas em lei. A menos que haja leis específicas exigindo cobrança de determinados atos, a regra é a da gratuidade dos atos processuais.
- e) O princípio da participação popular consiste na ideia de economia processual, pois o processo é instrumento para aplicação da lei, de modo que as exigências a ele pertinentes devem ser adequadas e proporcionais ao fim que se pretende atingir. Devem ser evitados os formalismos excessivos, não essenciais à legalidade do procedimento que só possam onerar inutilmente a Administração Pública, emperrando a máquina administrativa.

38. De acordo com a classificação dos atos administrativos quanto à exequibilidade, assinale a alternativa correta.

- a) Ato pendente é aquele pelo qual a Administração cria, modifica ou extingue um direito ou uma situação do administrado. É o caso da permissão, autorização, dispensa, aplicação de penalidade, revogação.
- b) Ato imperfeito é o que já exauriu os seus efeitos. Ele se torna definitivo, não podendo ser impugnado, quer na via administrativa, quer na via judicial; quando muito, pode gerar responsabilidade administrativa ou criminal quando se trata de ato ilícito, ou responsabilidade civil do Estado, independentemente da licitude ou não, desde que tenha causado danos a terceiros.

- c) Ato consumado é o que não está apto a produzir efeitos jurídicos, porque não completou o seu ciclo de formação. Por exemplo, quando falta a publicação, a homologação, a aprovação, desde que exigidas por lei como requisitos para a exequibilidade do ato.
- d) Ato semi-perfeito é o que está sujeito a condição ou termo para que comece a produzir efeitos. Distingue-se do ato imperfeito porque já completou o seu ciclo de formação e está apto a produzir efeitos; estes ficam suspensos até que ocorra a condição ou termo.
- e) Ato perfeito é aquele que está em condições de produzir efeitos jurídicos, porque já completou todo o seu ciclo de formação; isto é, um ato que seja motivado, reduzido a escrito, assinado, publicado, está perfeito em sua formação, se a lei não contiver qualquer outra exigência.

39. São servidores públicos, em sentido amplo, as pessoas físicas que prestam serviços ao Estado e às entidades da Administração Indireta, com vínculo empregatício e mediante remuneração paga pelos cofres públicos. Sobre os servidores públicos, assinale a alternativa correta.

- a) Os servidores temporários, são os que atuam por tempo determinado para atender à necessidade temporária de excepcional interesse público.
- b) Os empregados públicos, são aqueles sujeitos ao regime estatutário e ocupantes de empregos públicos.
- c) Os servidores estatutários são aqueles contratados sob o regime da legislação trabalhista e ocupantes de cargo público.
- d) Não existe a modalidade de servidor temporário no ordenamento jurídico brasileiro.
- e) Os empregados estatutários são aqueles contratados por tempo determinado para atender à necessidade temporária de excepcional interesse público; eles exercem função, sem estarem vinculados a cargo ou emprego público.



40. Em relação ao poder de polícia da Administração Pública, analise:

RASCUNHO

I - O poder de polícia em uma de suas definições, pode ser apresentado como a atividade do Estado consistente em limitar o exercício dos direitos individuais em benefício do interesse público;

II - O poder de polícia que o Estado exerce pode incidir em duas áreas de atuação estatal: na administrativa e na judiciária. A principal diferença que se costuma apontar entre as duas está no caráter repressivo da polícia administrativa e no preventivo da polícia judiciária;

III - São atributos do poder de polícia, como regra a vinculação, a autoexecutoriedade e a não-coercibilidade;

IV - O Poder Legislativo, no exercício do poder de polícia que incumbe ao Estado, cria, por lei, as chamadas limitações administrativas ao exercício das liberdades públicas.

Dos itens acima:

- a) Apenas os itens I e III estão corretos.
- b) Apenas os itens II e IV estão corretos.
- c) Apenas os itens I e IV estão corretos.
- d) Apenas os itens I, II e III estão corretos.
- e) Todos os itens estão corretos.